



is to



as



is to...



1



2



3



4



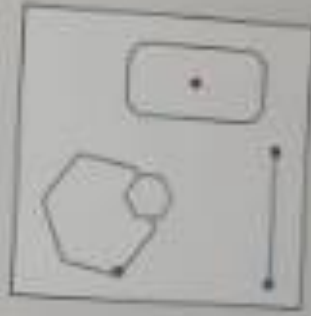
5



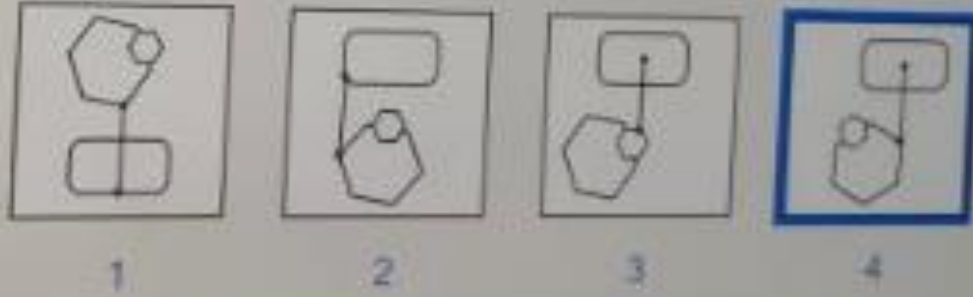
6

24 / 24

الثلاث الاشكال مختلفة فالاجابة لازم تكون غير عن  
الاشكال المذكورة في السؤال و الشكل يكون غير منقط  
فالشكل الوحيد المختلف هو رقم ٦



How do the shapes fit together?




دمج الأشكال بدون تداخل أو تقاطع مع  
تدوير الشكل بدون تغيير موضع النقاط




is to



as



is to...



1



2




3



4



5



6

الاجابة الصحيحة رقم ٢  
تحويل الشكل بخط مستقيم بدون عكس  
الشكل



How do the shapes fit together?



1



2



3

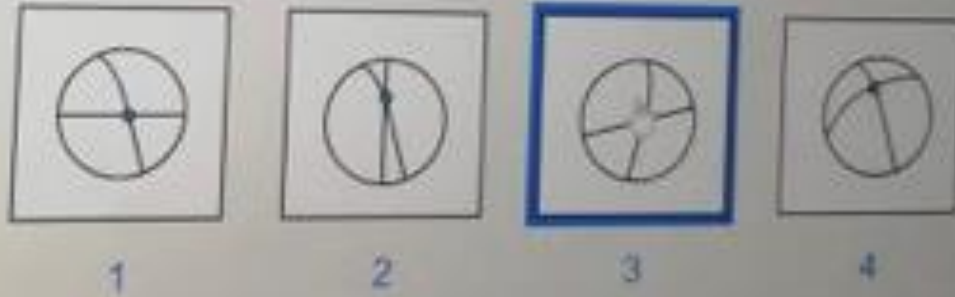


4

الإجابة الصحيحة ٤

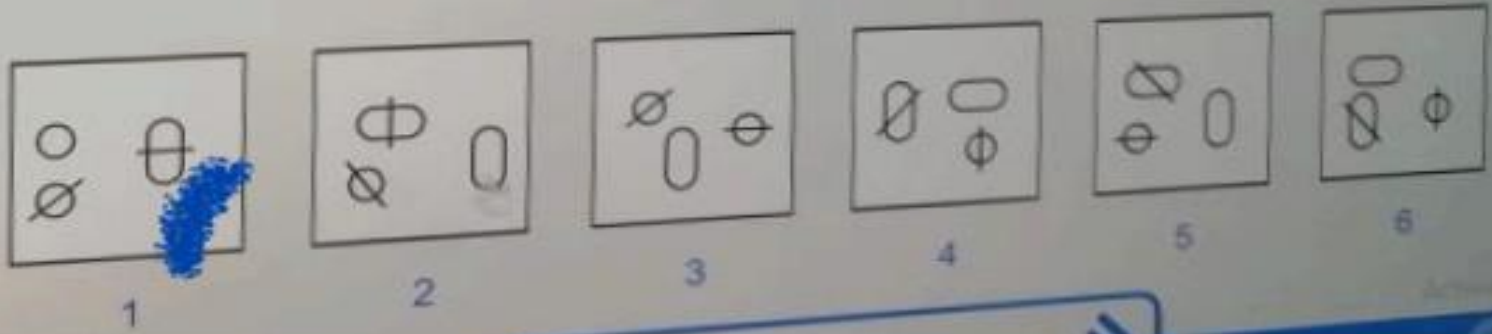


How do the shapes fit together?




الإجابة الصحيحة ٤

Which of the following is the odd one out ?



الإجابة الصحيحة ٣

كل الصور تحمل شكلين مختلفين فيهن خطوط ما  
عدا الشكل ٣ نفس الشكل (الدائرتين فيهن خط)

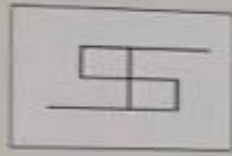


متتالية الاشكال

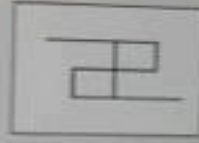
الشكل الاول لجهة اليمين، الشكل الثالث جهة

اليسار

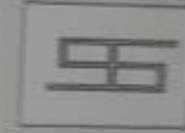
فالشكل الخامس يكون جهة اليمين.



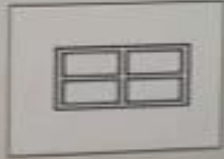
is to



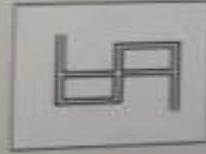
as



is to...




1



2



3



4



5

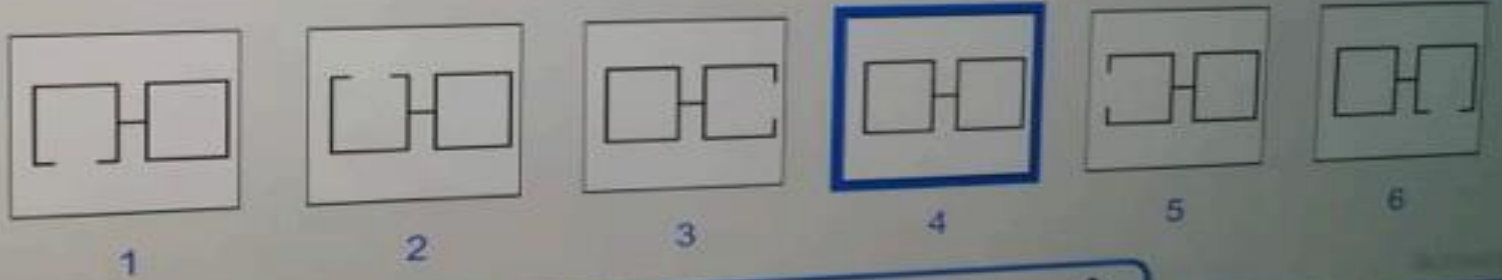


6

النمط عبارة عن الشكل يقابله الشكل  
بالإتجاه العكسي



Which of the following is the odd one out ?



الشكل رقم ٤ هو المختلف  
جميع الأشكال فيه ضلع ناقص ما عدا  
رقم ٤ عبارة عن شكلين مكتملات



How do the shapes fit together?



1



2

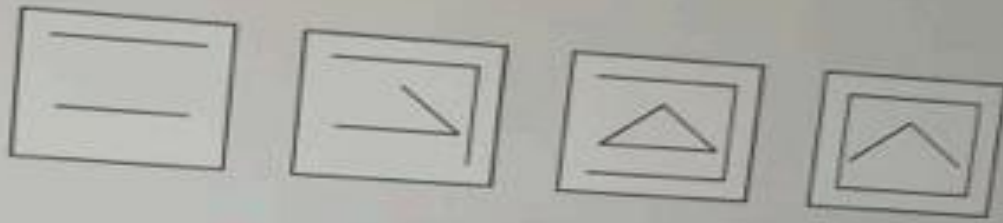


3

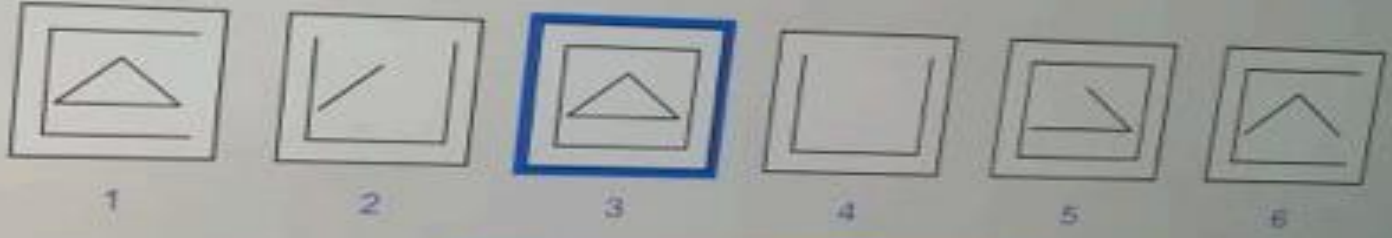


4

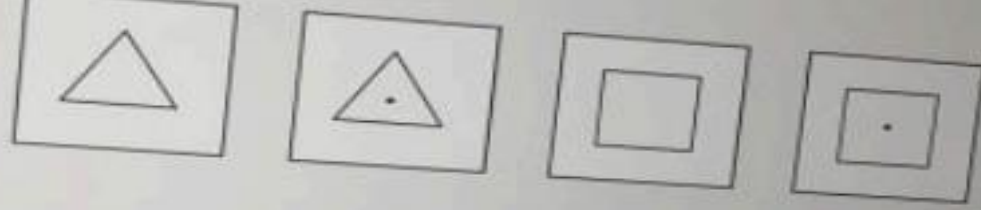
تجميع الأشكال مع بعضهن




what comes next?



تكملة الشكل بزيادة الاضلع  
تكملة الشكل تشكّل مثلث



what comes next?



1

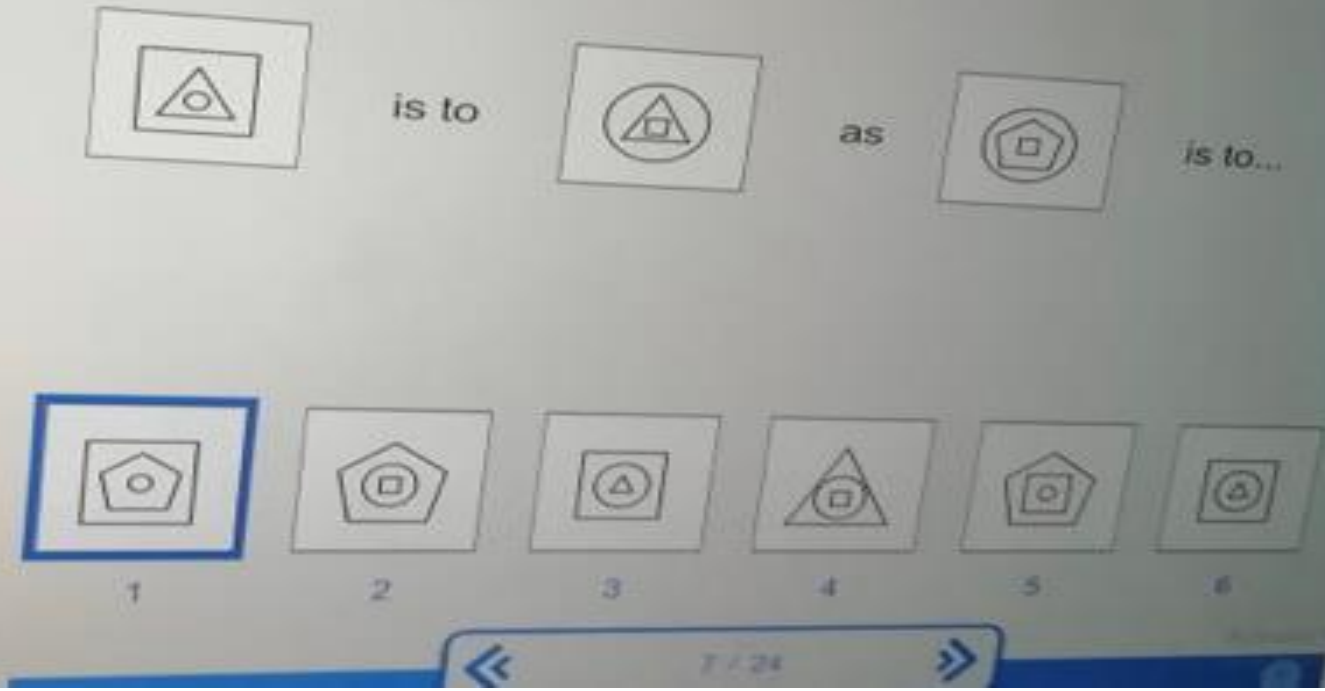
2

3

4

6

نمط الاشكال الاول بنقطة الثاني بدون نقطة وهكذا  
فالشكل الخامس يكون بدون نقطة ومع عدم تكرار  
الشكل فالاجابة الصحيحة رقم ٥



نمط الشكل عبارة عن انتقال الاشكال مع ابقاء الشكل الاوسط نفس المكان

Which of the following is the odd one out ?



1



2




3



4



5



6

الشكل الاول هو الشكل الوحيد الذي يحتوي  
على (مربع ودائرة) عكس الكل يحتوي على  
نفس الشكل الداخلي والخارجي

8/9 is to 7/9 as 2/3 is to?

5/9	4/9	1/3	7/18	1/6	1/9
1	2	3	4	5	6

أو الإجابة رقم ٣

$$1/3$$

$$8/9 - 1/9 = 7/9$$

$$2/3 - 1/3 = 1/3$$

الإجابة رقم ١

$$8/9 = 0.888889$$

$$7/9 = 0.777778$$

$$2/3 = 0.666667$$

$$5/9 = 0.555556$$

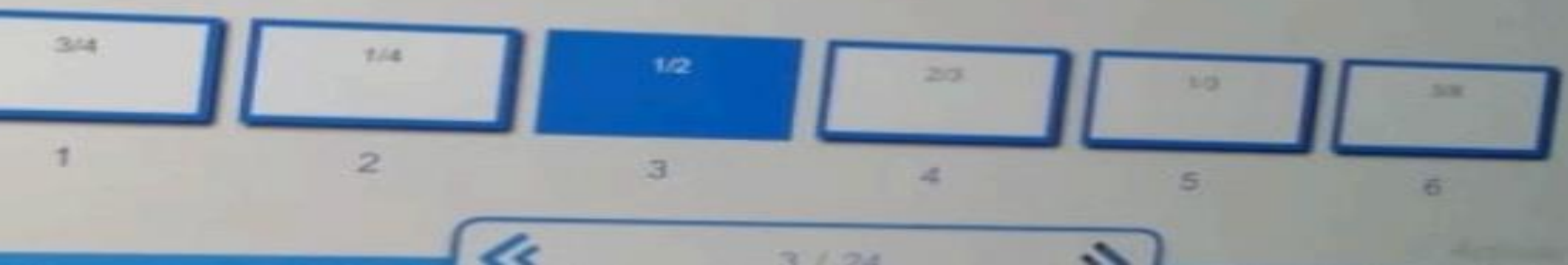
2, 4, 6, 8, 10, 12, ... What number comes next?

8	9	11	12	14	16
1	2	3	4	5	6

متتالية الاعداد الزوجية  
نضيف كل مرة ٢



4/12 is to 2/6 as 4/8 is to?



تساوي الطرفين او النظر في علاقة الارقام

$$4/12 = 0.33$$

$$2/6 = 0.33$$

$$4/8 = 0.5$$

$$1/2 = 0.5$$

1 is to 10 as 10 is to...?

10	100	99	92	47	39
1	2	3	4	5	6

$$1 * 10 = 10$$

$$10 * 10 = 100$$

2.40, 1.20, 0.60, 0.30, 0.15, ....What number comes next?

0.125	0.100	0.075	0.065	0.025	0.012
1	2	3	4	5	6

الإجابة رقم ٢

نقسم كل مرة على ٢ فيطلع الناتج

٠,٠٧٥

Sing is to Voice as Run is to?

Person

Walk

Athlete

Swim

Legs

Stamina


يفني الفعل  
الصوت اسم  
يجري الفعل  
رياضي الاسم

Those is to These as There is to?

- 1. Now
- 2. When
- 3. Here
- 4. What
- 5. How
- 6. Why

الاجابة ٣  
أولئك - هؤلاء  
هناك - هنا

Tomorrow is to Yesterday as April is to?



هنا الاجابة شهر مارس  
لانه قال الغد للامس  
فشهر ابريل قبله شهر مارس

4, 5, 7, 8, 10, 14, 12, 15, 21 ... What number comes next?

22

17

20

16

24

18

1

2

3

4

5

6

An item in a sale costs \$3.96. If it was reduced from its original price by 10%, what was the original price?

\$4.30

1

\$3.94

2

\$3.96

3

\$4.00

4

\$4.20

5

\$4.40


6

Reducing =  $100 - 10 = 90\%$

So,  $3.96 / 0.90 = \$4.40$




Book is to Read as Television is to?




الكتاب للقراءة  
التلفاز للمشاهدة  
الاجابة ٢

Up, In, Down, Out, Backwards, Under ... What word comes next?



النمط يصف الاتجاهات المكانية

Which of the following is the odd one out?



كلهن حيوانات (ثدييات) ما عدا الطيور  
تحليل آخر: كلهن ٤ قوائم ما عدا الطيور ٢

12, 60, 300, 1 500, ....What number comes next?

- 1 2 3 4 5 6
- 8 125 7 500 6 000 5 125 4 500 3 000

نضرب في ٥ كل مرة